

試験開始の合図があるまで、問題冊子を開かないでください。

平成30年度 第3回しらかわ検定

1級 問題冊子

(問題数50問 試験時間50分)

注意事項

- 試験中は受験票、筆記用具、時計（通信機能のないもの）以外は全てかばん等にしまってください。
- 携帯電話はマナーモードにするか、電源をお切りください。
- 問題冊子は、28ページあります。印刷が不鮮明であったり、ページが不足していたりする場合や、解答用紙の汚れ等に気づいた場合は、手を挙げて係員にお知らせください。ただし、問題に関する質問にはお答えできません。
- 問題は択一問題と記述式問題です。
 - 択一問題の解答は、解答用紙の1から4の数字のうち、正答と思われる番号一つに丸を付けてください。例えば【第1問】に対して「1」と解答する場合は、次の（例）のように解答用紙に丸を付けてください。

（例）

第1問	①	2	3	4
-----	---	---	---	---
 - 択一問題の解答で解答用紙に正しく丸が付けられていない場合や二つ以上に丸が付いている場合は、不正解とします。
 - 記述式問題の解答は、楷書で書いてください。漢字・ひらがなのいずれで解答してもかまいません。ただし、漢字の誤記及びカタカナは不正解とします。
- 不正行為を行った場合は、その時点で受験を取りやめ退室していただきます。
- 不明な点がある場合や、体調不良やトイレでやむを得ず席を立つ場合は、手を挙げて係員にお知らせください。

【第1問】

白河市内の旧石器時代と縄文時代の遺跡について、まちが間違っているものはどれですか。

- ① 白坂地区で旧石器時代の遺跡が発見されている
- ② 現在、市の重要文化財に指定されている硬玉製大珠は一里段A遺跡から出土した
- ③ 大信地域の遺跡から新潟県糸魚川だけで産出されている翡翠が発見されている
- ④ 南堀切遺跡からは東北地方と関東地方の特徴を持った土器が混在して発見されている

【第2問】

次の写真の土器は、縄文時代の遺跡から出土した土器です。この土器が出土した遺跡の名前は何ですか。



- ① 滝ノ森B遺跡
- ② 借宿廃寺跡
- ③ 下黒川遺跡
- ④ 大塚遺跡

【第3問】（記述式）

次の文章の（ ）内に当てはまる同じ語句は何ですか。

おもてごうばんざわ しょざい やよい いせき つぼ
表郷番沢に所在する弥生時代の遺跡から、壺の口の部分に（ ）

ひょうげん
が表現された（ ）つきやよいどき よ どき げんざい
付弥生土器と呼ばれる土器が発見され、現在は

ふくしまけん ぶんかざい
福島県指定重要文化財となっている。

【第4問】

こふん いせき ひがしにほん
古墳時代中期の遺跡で東日本最大とされる遺跡はどれですか。

ぎるうちこふんぐん
① 筑内古墳群

しもうさづかこふん
② 下総塚古墳

たてほこやまさいしいせき
③ 建銚山祭祀遺跡

てんのうやまいせき
④ 天王山遺跡

【第5問】

ふなだなかみちいせき まちが
舟田中道遺跡について、間違っているものはどれですか。

ふくそうひん こんどうせいばぐ
① 副葬品として金銅製馬具が出土した

えんぷん かくにん
② 直径20メートルの円墳が確認されている

しらかわのくにのみやつこ ほんきょ
③ 「白河国造」の本拠と考えられている

みぞ ごうぞくきょかんあと せんざい
④ 一辺70メートルほどの溝で区画された豪族居館跡が存在して
いる

【第6問】

次の文章の (A)、(B)、(C) に当てはまるものの組み合わせはどれですか。

(A) は、(B) に所在している国指定史跡で、(C) 氏が発掘に携わった。

- | | | |
|--------------|---------|----------|
| ① A : 町屋遺跡 | B : 大信 | C : 岩越二郎 |
| ② A : 天王山遺跡 | B : 久田野 | C : 藤田定市 |
| ③ A : 下総塚古墳 | B : 舟田 | C : 岩越二郎 |
| ④ A : 野地久保古墳 | B : 板橋 | C : 藤田定市 |

【第7問】

次の文章の () 内に当てはまる数字は何ですか。

陸奥国白河郡では、現在の白河市、西白河郡、東白川郡、石川郡、茨城県大子町にかけて () の里 (郷) が置かれていた。

- ① 1 0 7 ② 7 7 ③ 4 7 ④ 1 7

【第8問】

しらかわのしょう しらかわゆうきけ まちが
白河 荘 と白河結城家について、間違っているものはどれですか。

- ① 鎌倉時代後期には高野郡が白河 荘 に含まれた
- ② 白河結城家の先祖は、下野国（栃木県）の有力武士であった
小山家である
- ③ 結城宗広の墓は三重県伊勢市と津市にも存在している
- ④ 鎌倉時代から室町時代に至る時期に地頭職として結城朝光と
結城祐広が白河 荘 を支配した

【第9問】（記述式）

下の文章の（ ）内に当てはまる語句は何ですか。

ゆうきむねひろ
結城宗広が用いたと伝えられている「結城宗広軍中旗」は昭和期に
半分に裁断され、その半分が三重県津市の（ ）神社に奉納された。

【第10問】

およそ90通からなる「白河結城家文書」で、最も古いものは何年に
書かれましたか。

- ① 文治5年（1189）
- ② 文永1年（1264）
- ③ 応永9年（1402）
- ④ 延徳2年（1490）

【第11問】

次の写真は中世白河の城館跡を北西から撮影したのですが、写

真の城館跡の名称は何ですか。



①新地山館跡

②天王館跡

③富沢館跡

④高野館跡

【第12問】

富沢館跡の所在する場所として正しいものはどれですか。

①借宿

②大信下小屋

③表郷河東田

④藤沢山

【第13問】

次の文章の (A) と (B) に当てはまるものの組み合わせはどれですか。

さいしょうじどうしょう しょうめい てんぶん
最勝寺銅鐘は、その鐘銘から、天文13年(1544)年に

ちゅうぞう ゆうき (A) ・ (B) 父子らが奉納したことがわかる。

- ① A : ともみつ 朝光 B : ともひろ 朝広 ② A : むねひろ 宗広 B : ちかとも 親朝
- ③ A : よしつな 義綱 B : はるつな 晴綱 ④ A : よしちか 義親 B : よしひろ 義広

【第14問】

ちゅうせい しんこう
中世白河の信仰について、正しいものはどれですか。

かしまじんじゃ きげん しりょう でんらい てつせいかぎ
① 鹿嶋神社の起源を特定する資料として、神社に伝来する鉄製鍵
がある

たいしんなかしんじょう けんちょう ねんめいたび ふくしまけん
② 大信中新城にある建長8年銘板碑は福島県内で最も古い
ものである ※建長8年(1256)

あみだまえくようとう しらかわいし つく
③ 阿弥陀前供養塔は整形された白河石で造られている

かしまじんじゃ けいだい ふとのひ かしまじんじゃ
④ 鹿嶋神社境内にある浮屠碑は、鹿嶋神社に立っていた

さんじゅうのとう ゆうきちかとも
三重塔の由来について記したもので、もとは結城親朝が建てた
ものと言われている

【第15問】

市指定重要文化財である下の写真の木造釈迦如来坐像がある寺院はどこ

ですか。



① 小峰寺

② 常宣寺

③ 大統寺

④ 龍蔵寺

【第16問】

むろまち せんごくじだい しらかわゆうきし
室町・戦国時代の白河結城氏について、正しいものはどれですか。

- ① 白河結城氏が最盛期を迎えたのは、結城氏朝・直朝の頃である
- ② 南北朝時代に、結城宗広・親朝父子は一貫して北朝（足利尊氏側）に付き、白河荘全体を支配した
- ③ 白河結城氏は分家の小峰氏と対立した永正の変（永正7年（1510））で小峰氏を打ち破り、周辺地域への支配を確立した
- ④ 結城義親は豊臣秀吉の小田原攻めへ参軍し、その功により所領を保証された

【第17問】

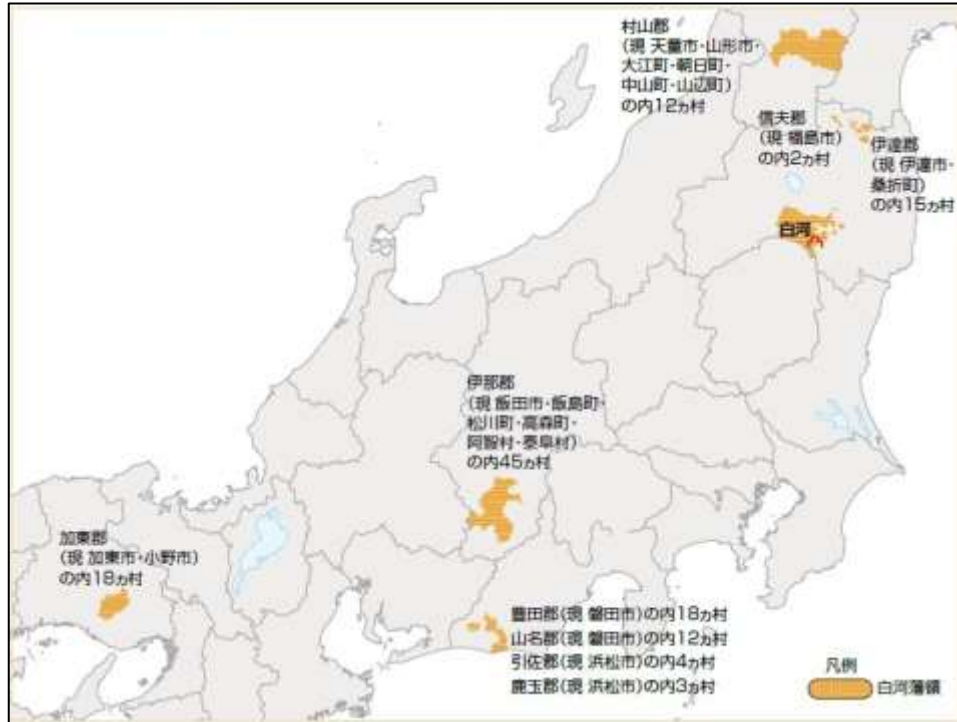
白河藩歴代城主の入封・移封地について、間違っているものはどれですか。

- ① 丹羽光重は、寛永20年（1643）に二本松に移封された
- ② 本多忠義は、慶安2年（1649）に宇都宮より入封した
- ③ 松平直矩は、元禄5年（1692）に山形より入封した
- ④ 阿部正静は、慶応3年（1867）に棚倉に移封された

【第18問】

しらかわはん りょうち はんい ころ はんしゅ
白河藩の領地が下記の図の範囲であった頃の藩主として正しいものはどれですか。

はどれですか。



- あべまさかた まつだいらさだよし まつだいらただひろ さかきばらただつぐ
①阿部正備 ②松平定賢 ③松平忠弘 ④榊原忠次

【第19問】(記述式)

かんえい こみねじょう だいかいしゅう
寛永6年(1629)から約4年をかけて小峰城の大改修を行っ

しらかわはんしゅ だれ
た白河藩主は誰ですか。

【第20問】

こみねじょう
小峰城 エリアについて、正しいものはどれですか。

こみねじょう やぐら けんぞうぶつ さんじゅうやぐら つきみやぐら
①小峰城 で「櫓」と名の付く建造物は、三重櫓と月見櫓の

2つのみだった

さくじいなり しょうわ げんざい いちく
②作事稻荷は昭和期に現在の場所に移築された

らかんやまちくじょういなりじんじゃひ おおやますけざえもん きごう
③羅漢山築城稻荷神社碑は大山佐左衛門によって揮毫された

しらかわじょうおやぐらえず こみねじょう かくにん
④「白河城御櫓絵図」によると小峰城内の門は18か所確認で

きる

【第21問】

ばくふどうちゅうぶぎょうかんかつ おうしゅうどうちゅう あいづかいどう ぶんき
幕府道中奉行管轄の奥州道中の終点で、会津街道との分岐

てん おいわけ げんざい
点である追分は、現在の白河市のどこにありますか。

おおやじ
①大谷地

かわご
②皮籠

ねだ
③根田

おんないし
④女石

【第22問】

おうしゅうかいどう
奥州街道とその周辺地域ちいきについて、まちが間違っているものはどれですか。

①白河を通るルートは、白坂宿しらさかしゆく・皮籠村かわごむら・小丸山こまるやまを経て、九番町くばんちょう
から小峰城下こみねじょうかに入る

②白河宿しらかわしゆくの次の宿場である根田宿ねだしゆくの手前に「大清水おおしみず」と呼ばれる
清水がある

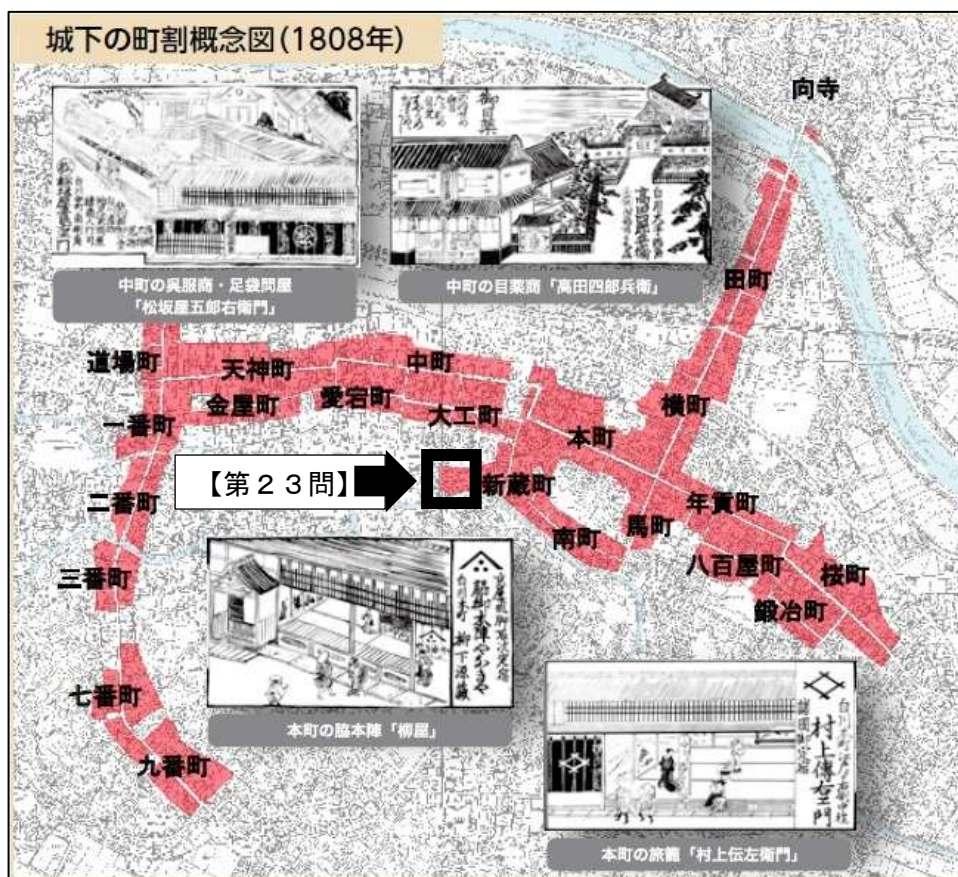
③石阿弥陀いしあみだに現存げんそんしている一里塚いちりづかを通るルートが、奥州街道おうしゅうかいどうとし
て使われた期間は約100年間だった

④白坂宿しらさかしゆくは、芦野あしのから白河までの道のりが長く人馬じんばが苦勞するため
定められた

【第23問】（記述式）

下の図は ^{じょうかまち} 城 ^{まちわりがいねんず} 下町の町割概念図（文化5年（1808））です。

^{ちいき} の地域に当てはまる ^{ちょうめい} 町名は何ですか。



【第24問】

えちごたかだはん かまのこじんや
越後高田藩と釜子陣屋について、正しいものはどれですか。

① 釜子かま(の)こは、寛保元年かんぼう(1741)に行われた転封てんぽうで白河藩に入つた榊原家さかきばらけに与えられた

② 越後高田藩えちごたかだはんの陣屋じんやは当初、浅川あさかわと釜子かま(の)こにあったが、寛政10年かんせい(1798)の浅川騒動あさかわそうどう後は釜子のみとなった

③ 戊辰戦争ぼしんせんそうの際、釜子陣屋さいの高田藩士かまのこじんやは奥羽越列藩同盟側たかだはんし おううえつれっばんどうめいに
したがしたが、小峰城こみねじょうに籠城ろうじょうして戦った

④ 釜子かま(の)こを含む奥州の飛領とびりょうは幕末まで続き、武士や様々な職人が
越後高田えちごたかだから移り住むようになった

【第25問】

白河市の歴史的風致形成建造物について、間違っているものはどれですか。

① 千駒酒造の南東側にある長田美容院は明治期に建てられた白河

石造りの建造物である

② 天神町に所在する松井薬局建造物群は、旧奥州街道に

面した店舗や蔵を先頭に複数の蔵が連続して建っている

③ 歴史的風致形成建造物に指定されている建物には、昭和期に建て

られたものも存在している

④ 今井醤油店建造物群の蔵は那須連峰からの吹き下ろしによる

火災時の延焼防止のため、敷地の西側に建てられている

【第26問】

関川寺(愛宕町)に葬られている又は供養されている人物のうち、間違ているものはどれですか。

① 結城宗広

② 松平清照

③ 本田東陵

④ 石川大之進

【第27問】

下の文章の（ A ）と（ B ）に当てはまるものの組み合わせはどれですか。

まつだいらさだのぶ ながさき
松平定信は長崎から（ A ）をまね、すかがわで（ B ）をせいぞう
させた。

- | | |
|---------------------------|-------------------|
| ①A : いづみげんえもん
泉源右衛門 | B : しらかわやき
白河焼 |
| ②A : こばやしかくざえもん
小林覚左衛門 | B : 刀 |
| ③A : さがやひょうこ
相谷氷壺 | B : ガラス |
| ④A : てがらやままさしげ
手柄山正繁 | B : 織物 |

【第28問】（記述式）

次の写真は国指定史跡 ^{しせき}白河関跡 ^{せきあと}にある ^ひ碑を写したものです。この碑は
何と ^よ呼ばれていますか。



【第29問】

「^{しゅうこじっしゅ}集古十種」について、^{まちが}間違っているものはどれですか。

- ①全国規模で重要な古物を^{もしや}模写し、文化財^{ずろく}図録として^{へん}編さんされたもので、^{しゅうろく}収録された古物は約1,859点にも及ぶ
- ②^{かしまじんじゃ}鹿嶋神社に^{でんらい}伝来した^{もくぞうかき}木造柿^{もとのひとまるぞう}本人麻呂像の^{もしや}模写が^{しゅうろく}収録されており、美しい木目の特徴がよく写し取られている
- ③^{はくうん}白雲は^{たにぶんちょう}谷文晁に入門して^{へん}編さんに^{たずさ}携わり、^{きない}畿内・^{しこく}四国・^{さんよう}山陽方面を旅して古物の^{もしや}模写を行った
- ④^{りゅうぞうじ}龍蔵寺の^{どうしょう}銅鐘の^{しょうめい}鐘銘には小さな傷が見られるが、^{しょうめい}鐘銘の^{たくほん}拓本を忠実に再現した木版と照合はできない

【第30問】

下の文章の (A) と (B) に当てはまるものの組み合わせはどれですか。

しょうふうていらげつあん かんせいねんかん (A) が (B) のために九番

ちょう べつてい こんりゅう げんざいなんこ いちく
町の別邸内に建立したと伝えられ、現在南湖公園に移築された茶室
である

① A : よしむらまたえもんせんおん 吉村又右衛門宣温 B : よしむらせんゆう 子・吉村宣猷

② A : みわごんえもん 三輪権右衛門 B : ながおせんそ 父・長尾仙鼠

③ A : つねまつふしょう 常松敷紹 B : いちはらつなちか 兄・市原紘稠

④ A : おおのぶんせん おおのせんゆう 大野文泉 (巨野泉祐) B : し たにぶんちょう 師・谷文晁

【第31問】

こうたいしでんか たいしょうてんのう ぎょうけい なんこはん
皇太子殿下(後の大正天皇)の白河行啓に際し整備された南湖湖畔

しんどう かいつうしき か めいじ かいさい
新道の開通式を兼ねて、明治40年(1907)に開催された大会の
種目はどれですか。

① じんりきしゃ 人力車 ② ときょうそう 徒競走 ③ そうしゅう 操舟 ④ じてんしゃ 自転車

【第32問】（記述式）

なんこじゅうななけい 南湖十七景のうち、下記の（ ）内に当てはまる景勝地の和名

は何ですか。

No.	和名	No.	和名	No.	和名
1	せき みずうみ 関の湖	7	つきみがうら 月見浦	13	ちよ つつみ 千世の堤
2	きょうらくてい 共楽亭	8	ときわしみず 常盤清水	14	おじかやま 小鹿山
3	かがみ やま 鏡の山	9	まつかぜ さと 松風の里	15	やごえのむら 八聲村
4	まはぎがうら 真萩か浦	10	まつむし はら 松虫の原	16	ありあけがさき 有明崎
5	にしき おか 錦の岡	11	したね しま 下根の島	17	ちよのまつばら 千代松原
6	()	12	みかげ しま 御影の島		



【第33問】

よしむらまたえもんせんおん
吉村又右衛門宣温について、正しいものはどれですか。

- ① 松平定信より南湖築造の際、実際の工事監督を任された
- ② 松平定信より別荘湖月亭を与えられたことに感激し、友人たちから湖月亭に関する詩を募った
- ③ 松平定信より江戸昌平黌に入学を命じられ、後に藩校「立教館」の教授を務めた
- ④ 松平定信より白河の風習や年中行事について質問され、陸奥国白川領風俗問状答を作成して献上した

【第34問】

けいおう めいじ せんとう しんせいふぐん
慶応4年(明治元年(1868))5月1日の戦闘における新政府軍(西軍)について、間違っているものはどれですか。

- ① 新政府軍(西軍)は同盟軍(東軍)が陣取る稲荷山、立石山、雷神山に向けて、白坂より三方に分かれて進軍した
- ② 同盟軍(東軍)を稲荷山に集中させた新政府軍(西軍)は手薄になった雷神山と立石山に攻め入り占領した
- ③ 新政府軍(西軍)は正午過ぎには小峰城本丸に錦旗を立てた
- ④ 同盟軍(東軍)は前日に須賀川で軍議を開き、小峰城へ向けて八方面から攻撃を仕掛けた

【第35問】

そらずいこうにつき 「曾良随行日記」に記されているすかがわたいざい すがらとうきゆう
在中に相楽等躬から聞い

た白河の名所に含まれていないものはどれですか。

① 追分の明神

② 人忘れずの山

③ 庄司戻しの桜

④ 二方の山

【第36問】（記述式）

次の文章を読み、当てはまる人物は誰ですか。

• 幕末から明治期に活躍した

• 安政5年（1858）に「調方儀」と名付けた測量器を製作した

• 明治維新後に白河県の書記官に任じられた

• 私塾「不求庵」を開き、幅広い分野について教えた

• 和歌の分野で活躍した

【第37問】

白河県が発足した時期として正しいものはどれですか。

① 明治2年（1869）5月

② 明治2年（1869）8月

③ 明治4年（1871）7月

④ 明治4年（1871）11月

【第38問】

白河^{ちいき}地域の小学校について、正しいものはどれですか。

- ① 現^{げんざい}在の白河市内で最初に^{そうりつ}創 立されたのは、明治^{めいじ}6年（1873）創 立の^{こたがわ}小田川小学校である
- ② 表^{おもてごう}郷 域に^{ほんざわ}番 沢 小学校が創立されたのと同じ年に、白河地域では^{おおたがわ}太田川小学校が2つの小学校に^{ぶんり}分離した
- ③ 明治^{めいじ}7年（1874）に白河地域で8つの小学校が創立された
- ④ 現^{しらかわだいご}在の白 河 第 五 小 学 校 の 前 身 である白坂小学校は創立以来、他の小 学 校 と ^{とうごう}統 合 したことはない


【第39問】

明治^{めいじ}5年（1872）に^{なかもち}中 町、^{しらさか}白 坂、^{こたがわ}小田川に置かれた施設はどれで ですか。

- ① ^{けんりつびょういん}県 立 病 院
- ② ^{せいしこうじょう}製 糸 工 場
- ③ ^{ゆうびんとりあつかいじよ}郵 便 取 扱 所
- ④ ^{でんしんきょく}電 信 局

【第40問】

下の写真は白^{はくほうせん}柵線の駅のうち大^{たいしょう}正5年（1916）に開業した駅の
写真ですが、どこの駅ですか。



- ① ^{なんこえき}南湖駅 ② ^{せきさんぐちえき}関山口駅 ③ ^{ばんざわえき}番沢駅 ④ ^{みもりえき}三森駅

【第41問】

白河ゆかりの人物や白河で活躍した人物について、まちが間違っているものはど
れですか。

- ① ^{おおやごかそん}大谷五花村は、^{せんりゅう}川柳で活躍した
② ^{ありがとらごろう}有賀帚五郎は、希少植物のビヤッコイを発見した
③ 洋画家の^{せきねしょうじ}関根正二と^{はせべえいち}長谷部英一は友人であったが、ともに^{ようせつ}夭折し
ている
④ ^{かわさき}川崎プッペは、人形作家として活躍した

【第42問】（記述式）

下の文章の（ ）内に当てはまる語句は何ですか。

しらかわちょうちん
白河提灯まつりの正式名称は「鹿嶋神社祭礼（ ）祭」とい
う。

【第43問】

しらかわちょうちん
白河提灯まつりについて、間違っているものはどれですか。

- ① ① 白河提灯まつりのはじまりは、明暦3年（1657）に白河
藩主から鹿嶋神社に神輿の寄贈があったこととされている
- ② ② 神社神輿を装備する「ぎり巻き」の作法は、横町・田町・大町の
みが行うことができるもので、口伝により引き継がれている
- ③ ③ エドワード・シルヴェスター・モースは、昭和3年（1928）の
「Japan Day by Day」で白河提灯まつりについて
て記している
- ④ ④ 23全町が鹿嶋神社に到着後、宮本・先達により全町総代お
手打ち・全町お手打ちの儀式が行われ、祭礼が終了する

【第44問】

町の説明について、まちが間違っているものはどれですか。

① 奥州街道沿いの天神町、中町、本町、横町、田町は「通り

五町」と呼ばれている

② 江戸時代以降に整備された鹿島小路・久保小路・道場小路・番士

小路・寺小路・八幡小路・北小路は「白河七小路」と呼ばれている

③ 文政6年(1823)の中町と本町の職業を見ると、本町は旅

籠(旅館)が多く、中町は商人や職人が中心の町で、隣同士の町で大きく職業が違うことが分かる

④ 「カギ型」は城下町特有の道路構造で、中町と本町の境にある大

カギ型は「十軒店」と呼ばれている

【第45問】

嘉永6年(1853)の白河町方の酒造業者の数として、正しい

ものはどれですか。

- ① 15軒 ② 13軒 ③ 11軒 ④ 9軒

【第46問】

次の文章の民俗行事みんぞくぎょうじの名称は何ですか。

「あくまばらい、あくまばらい、あくまばらい」と唱えながらかし櫛の大枝
でおはらいをし、「ヤー、ヤー、ヤー」の掛け声とともに御輿みこしを高くかか掲げ、
疾病除しつぺいよけを祈願きがんする祭礼さいれいで、小・中学生が中心となり、神輿みこしとともに地
区内いえいえの家々をまわる。

①八雲神社やくもじんじゃ（白坂地区しらさか）の八雲神社祭礼・天王様やくもじんじゃさいれい てんのうさま

②中ノ沢権現なかのさわごんげん（表郷梁森地区おもてごうやなもり）の中ノ沢権現なかのさわごんげんぼんてんさい梵天祭

③日吉神社ひよしじんじゃ（大信下新城地区たいしんしもしんじょう）の下新城しもしんじょうの天王祭てんのうさい

④天王社てんのうしゃ（東上野出島大竹地区ひがしかみのでしまおおたけ）の大竹おおたけの天道念仏てんとうねんぶつ

【第47問】（記述式）

下の文章の（ ）内に当てはまる語句は何ですか。

関辺地区せきべで行われている、太陽せいじょうの正常な運行と害虫ぼうじよの防除を念じて

五穀豊穰ごこくほうじょうを祈願きがんする白河の代表的な天道念仏てんとうねんぶつおどり踊せきべを関辺の（ ）

おどり
踊おどりという。

【第48問】

白河の文化について、正しいものはどれですか。

- ① ^{すずきていじろう たかくりゅうこ かつやく}鈴木貞次郎は高久 隆 古が活躍した時代にビャッコイを発見した
- ② ^{せきねしょうじ}関根 正 二が活躍した時代に生まれた白河にゆかりのある画家として、「馬の画家」の^{さいとうまさお}斎藤正夫がいる
- ③ ^{げんざい}現在、福島県指定重要文化財^{ぶんかざい}となっている「紙本^{しほん}著^{やく}色^{しよく}源^{げん}翁^{のう}和尚^{おしょう}行^{ぎょう}状^{じょう}縁起^{えんぎ}」は白雲^{はくうん}によって描^かかれた
- ④ ^{まつだいらさだのぶ}松平 定 信が果たせなかった新地^{しんち}（知）山^{やま}（人^{ひと}忘れずの山^{かひ}）歌碑^{かひ}の建^{こん}立^{りゅう}を渋^{しぶ}沢^{さわ}栄^{えい}一^{いち}が行った

【第49問】（記述式）

次の表の（ ）内に当てはまる同じ人物は誰だれですか。

主な出来事	白河の主な出来事
⋮	<p>かんぼう 寛保元年（1741）</p> <p>まつだいら ひさまつ け しらかわはんしゅ 松平（久松）家が白河藩主となる</p>
<p>めいわ 明和9年（1772）</p> <p>たぬまおきつぐ ろうじゅう 田沼意次が老中となる</p>	<p>てんめい 天明3年（1783）</p> <p>（ ）が白河藩主となる</p>
⋮	⋮
<p>てんめい 天明7年（1787）</p> <p>（ ）が老中となる</p>	<p>かんせい 寛政12年（1800）</p> <p>しゅうこじっしゅ かんこう 「集古十種」が刊行される</p>
⋮	<p>ぶんか 文化4年（1807）</p> <p>しらかわじょうあと がけ かんちゅうめい 白川城跡の崖に感忠銘が</p> <p>きざ 刻まれる</p>
⋮	<p>ぶんせい 文政6年（1823）</p> <p>あべけ しらかわはんしゅ 阿部家が白河藩主となる</p>
<p>てんぽう 天保5年（1834）</p> <p>みずのただくに 水野忠邦が老中となる</p>	⋮

【第50問】

ちゅうせい きんげんだい まちが
中世から近現代までの白河について、間違っているものはどれですか。

① たいしん なかしんじょう いたび ゆうきともひろ すけひろ
大信中新城に板碑が建てられたのは、結城朝広が次男の祐広

とともに しらかわのしょう いじゅう
ととも白河荘へ移住するより前のことである

② さかきばらけ しらかわはんしゅ あらわ
榊原家が白河藩主となった後に「おくのほそ道」が著された

③ しらかわでんとうかぶしきがいしゃ せつりつ
白河に鉄道が開通する前に白河電燈株式会社が設立されたが、

しらかわちょう でんとう とも
白河町内に電灯が点つたのは鉄道開通後であった

④ なんこじんじゃちんざさい かんとうだいしんさい と
南湖神社鎮座祭は関東大震災の前年に執り行われた

